

ШИФР УЧАСТНИКА 3-2

Задания для обучающихся

Творческий тур

Максимальное количество баллов – 50. Время выполнения – 45 мин.

ЗАДАНИЯ ОТКРЫТОГО ТИПА

Максимальное количество баллов – 30

Дайте развернутые или краткие ответы на следующие вопросы и задания в соответствии с требованиями к их выполнению.

Задание 1.

Аддикция (зависимость) (англ. addiction — зависимость, пагубная привычка, привыкание), в широком смысле, — оцущаемая человеком навязчивая потребность в определённой деятельности. Определите по перечисленным видам зависимостей, где химические и поведенческие аддикции и заполните таблицу.

Виды зависимостей: Наркозависимость, Ипохондрия, Гемблинг, Токсикомания, Дуромания, Алкоголизм, Трудовойлизм, Клептомания, Булимия, Влюбленность, Шопинг, Анорексия.

Химическая	Поведенческая
Наркозависимость +	Влюбленность +
Алкоголизм +	Шопинг +
Булимия +	Трудовойлизм +
Анорексия +	Тембелесия +
Токсикомания +	Нудеизация +
	Ипохондрия -
	Клептомания +

Максимальная оценка за правильно выполненное задание – 6 баллов, при этом: – за каждый правильный ответ начисляется по 0,5 баллов.

Оценка за задание 55 баллов

Задание 2

Предупредительные надписи, наклеиваемые на изготовленные лекарственные препараты, должны иметь следующий текст и сигнальные цвета, соотнесите их между собой.

Текст	Сигнальные цвета
1. "Перед употреблением взбалтывать"	А. Белый шрифт на зеленом фоне
2. "Хранить в защищенном от света месте"	Б. Красный шрифт на белом фоне
3. "Хранить в прохладном месте"	В. Белый шрифт на голубом фоне
4. "Легкое" или "Новорожденные"	Г. Зеленый шрифт на белом фоне
5. "Обращаться с осторожностью"	Д. Белый шрифт на синем фоне
6. "Сердечное"	Е. Белый шрифт на красном фоне
7. "Бережь от огня"	Ж. Белый шрифт на оранжевом фоне

Ответ: А Г, Б Д, В Б, Г В, Д Г, Е Ж, Ж Б


Максимальная оценка за правильно выполненное задание – 7 баллов, при этом: – за каждый правильный ответ начисляется по 1 баллу.

Задание 3. Оценка за задание 7 баллов

Запишите алгоритм действия очевидца дорожно-транспортного происшествия.



- Забудется в отпуске отключить газ +
сидя, погреться и курить сигарету.
- На поврежденном тротуаре ванночка
вылетит, зацепит, едет, едет.
- Установить в стояночный тормоз, дождаться
полюса, выключить для аварийной остановки.
- При возникновении опасности сразу
выполнить транспортное средство.



- Воспользоваться средствами с помощью
надувного шланга.
- Остановить движение транспорта.
- Определить местонахождение
нашлепки, дежурных, записать
пострадавших.
- Привлечь внимание окружающих
с помощью звуковых сигналов.

Максимальная оценка за правильно выполненное задание – 8 баллов, при этом:
- за каждый правильный ответ начисляется по 1 баллу;

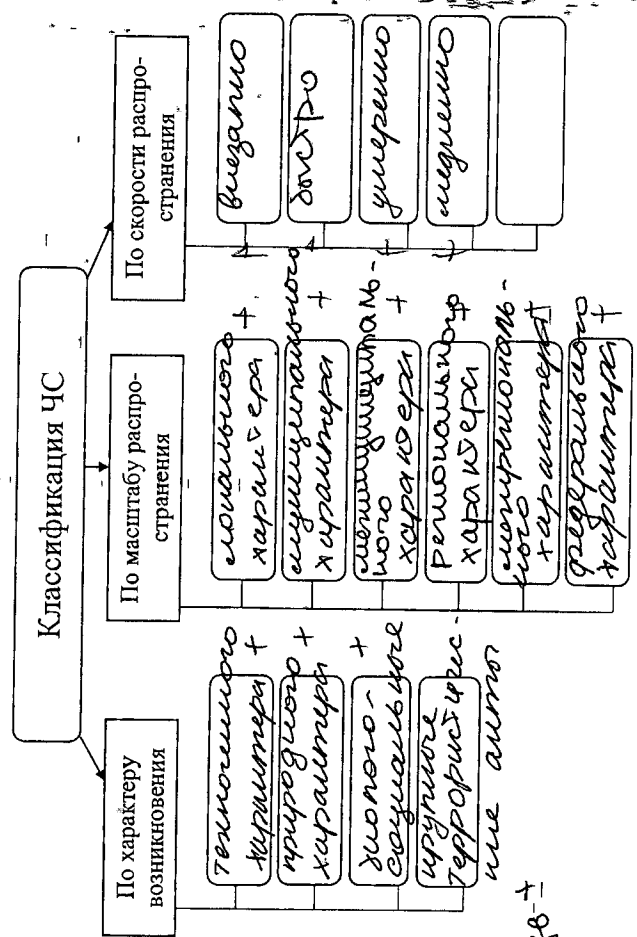
Оценка за задание 5 баллов

Задание 4.

Напишите понятие «Чрезвычайная ситуация» и заполните схему классификации ЧС.

А) Чрезвычайная ситуация – это одновременное

на определенном территории,
случившемся в результате
аварии, опасного природного
явления, катастрофы, аварии
или аварии или аварии
водо- или энергетической
установки или в среде



Максимальная оценка за правильно выполненное задание – 9 баллов, при этом:
- за правильное определение – 1,5 баллов;
- за каждый правильный ответ в части Б начисляется по 0,5 баллов;

Оценка за задание 8 баллов

Тестирование.

Максимальное количество баллов – 20

Из предложенных вариантов ответа выберите один правильный.

Правильный вариант ответа выделите любым знаком.

Правильные ответы на 1-12 вопрос оцениваются в 1 балл.


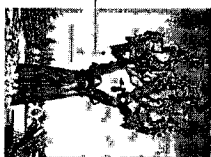
1. На перекрестке с регулируемым движением велосипедист, который делает поворот:

- A) имеет преимущество в движении перед пешеходами, идущими на зеленый сигнал светофора;
- B) должен уступить дорогу пешеходам, которые переходят улицу на зеленый сигнал светофора;
- B) не обязан уступать дорогу пешеходам, которые переходят улицу на зеленый сигнал светофора, но должен быть осторожным;
- Г) слезть с велосипеда, пройти пешеходную зону и снова поехать дальше.

2. Назовите важную деталь велосипеда, которая служит опорой для переднего конца рамы и одновременно связывает руль с управляемым колесом.

- A) Рама;
- Б Вилка;
- B) Спица;
- Г) Втулка.

3. В 2004 году случилось страшное — нападение на школу в Беслане. Захват продолжался три дня. 3 сентября произошел штурм. Год спустя этот день был объявлен Днем солидарности в борьбе с терроризмом. Определите памятник, который был изготовлен в память о событиях в Беслане.



4. Какое из перечисленных действий будет ошибочным, если вы услышите крик о помощи в коридоре, бежать в свою кабину и спрятаться там;

- A) если вы в коридоре, бежать в свою кабину и спрятаться там;
- B) учитель закрывает кабинет на ключ изнутри и отводит учеников вглубь помещения;
- B) если террорист попал в кабинет, слушаться и выполнять все требования;
- Г) при нападении террориста следует как можно ближе пригнуться к полу, особенно вблизи окон.

5. Безопасность детей на воде обеспечивается:

- A) правильным выбором и оборудованием мест купания;
- B) планомерной профилактической разъяснительной работой о правилах поведения на воде;
- B) соблюдением мер безопасности всеми категориями населения;
- Г) все перечисленные ответы верны.

6. Действия, которые необходимо предпринять, услышав сигнал «Внимание всем!»:

- A) немедленно связаться с родственниками, друзьями и знакомыми и сообщить им в известность о сигнале;
- Б немедленно посредством телевизора, радио или интернета получить информацию о возникшей опасности и порядке действий;
- B) выбежать на улицу и подняться на возвышенность;

— Отключить газ, отопление, электричество, воду и спуститься в подвальные помещения.

7. Укажите верную последовательность действий при поступлении аварийно химически опасных веществ через рот.

- + А) прополосни рот, промой желудок, прими активированный уголь, очисти кишечник;
- Б) промой желудок, прополощи рот, прими активированный уголь, очисти кишечник;
- В) прополощи рот, промой желудок, очисти кишечник, прими активированный уголь;
- Г) очисти кишечник, прополощи рот, промой желудок, прими активированный уголь.

8. Массовое поражение картофеля заболеванием «фитофтора» в личных и общественных хозяйствах определённого региона страны будет называться термином:

- А) эпидемия;
- Б) эпизоотия;
- В) панфитотия;
- + Г) эпифитотия.

9. Какую позу необходимо предпринять человеку перед прыжком в воду с тонущего судна?

- А) Прыгать головой вниз, руки сложены вперед, ноги вместе;
- Б) Прыгать ногами вниз, ступни прижать друг к другу, ноги слегка согнуть и напирать;
- В) Прыгать вниз, руками обхватив ноги, согнутые в коленях и прижатые к телу;
- Г) Прыгать ногами вниз, на прямых ногах, руки прижать вдоль тела.

10. Какой из вариантов обеда обеспечит наибольшую потребность организма в белках?

- А) макароны с котлетой;
- Б) отварные овощи с рисом;
- В) жареная картошка с сосиской;
- Г) запечённая куриная грудка с гречкой и грибами.

11. Психологическое состояние, вызванное угрожающим жизни воздействием внешних условий и выраженное в чувстве острого страха, охватывающего человека или множество людей, которые неуклонно и неконтролируемо стремятся избежать опасной ситуации:

- А) беспокойство;
- Б) испуг;
- В) тревога;
- + Г) паника.

12. Укажите имя путешественника, который много раз бывал в автономном существовании в природной среде. Принадлежит много рекордов, один из которых абсолютный мировой рекорд для аэростата, облётов вокруг земного шара за рекордно короткое время: 11 дней 4 часа 20 минут или 268 часов 20 минут.



- А) Палкевич Яцек Б) Федор Конюхов В) Беар Гриллс Г) Юрий Селпукхин

Выберите несколько вариантов ответов:

Правильные варианты ответов выделите любым знаком.

13. Каждая пустыня мира имеет свои ветра, выберите правильные наименования встречающихся ветров пустынь:

- А) Афанец;
- Б) Борокко;
- В) Сахарец;
- С) Сирокко;
- Д) Сахель.

Максимальная оценка за правильно выполненное задание – 2 балла

14. Согласно международному гуманитарному праву к запрещенным способам (методам) ведения боевых действий относятся:

- А) убийство парламентаря и сопровождающих его лиц;
- Б) химическое оружие, в том числе химические средства, а также снаряды для их применения;
- В) зажигательное оружие при любых обстоятельствах против гражданского населения и гражданских объектов;
- Г) мины, мины-ловушки или другие устройства, специально спроектированные для срабатывания от излучения миноискателя;
- Д) отдача приказа никого не оставлять в живых, угрожать этим или вести боевые действия на этой основе;
- Е) принуждение поданных противной стороны принимать участие в боевых действиях, направленных против их государства.

Максимальная оценка за правильно выполненное задание – 3 балла

15. Отметьте утверждения с которыми вы согласны:

- А) во время путешествия нельзя уходить с лыжни в сторону или отставать, неполадки в одежде и снаряжении устраняются только на привале;

Б) при плохой видимости (туман, метель, поземка, сумерки) следует прекратить движение вперед и вернуться домой;

В) спускаются на лыжах с горных склонов по очереди, с интервалом;

Г) при потере управляемости скорость гасят торможением, а в случае непредвиденных препятствий останавливаются, падая назад;

Д) если склон не просматривается, лучше спускаться пешком (чем на лыжах);

Е) при движении по волоку не нужно придерживать проложенной лыжни.

Максимальная оценка за правильно выполненное задание – 3 балла

Итого за тестирование 9 баллов

ШИФР УЧАСТНИКА

3-2

Практический тур

Материалы для обучающихся

Максимальное количество баллов – 50.

Задание № 1. Оказание первой помощи.

Максимальное количество баллов – 20.

Оценка за задание 17 баллов

Задание №2. Автономное существование человека в природе.

Вязка узлов.

Максимальное количество баллов – 15.

Оценка за задание 12 баллов

Задание № 3. Действия в чрезвычайной ситуации в районе аварии с выбросом АХОВ.

Максимальное количество баллов - 15.

Оценка за задание 13 баллов

ИТОГО за практический тур 42 баллов

Подписи членов жюри

