

Вероссийская Олимпиада

Школьников

Школьный этап

по истории.

за 2024-2025 уч. год.

ученика 6 класса "В"

МБОУ "Уральская СОШ №1"

Бугаев Артем Иванович.

14.06.2012.

Бугаева Любовь Александровна.

**Бланк ответов**  
**ШКОЛЬНЫЙ ЭТАП ВСЕРОССИЙСКОЙ ОЛИМПИАДЫ ШКОЛЬНИКОВ 2024-2025 УЧЕБНОМ**  
**ГОДУ**  
**ПО ИСТОРИИ.**  
**6 КЛАСС.**

Код \_\_\_\_\_

№ задания	Правильный ответ	Балл
Задание 1		
1	(X) (3)	0 1
2	(1)	1 1
3	(3)	0 1
4	(1)	0 1
5	(2)	1 1
6	(4)	0 1
7	(3)	0 1
8	(1)	0 1
9	(3)	0 1
10	(4)	0 1
Задание 2	2, 4, 1, 5, 3, 6.	0 6
Задание 3	3, 4	2 2
Задание 4	1 B) 2 B) 3 A) 4 Ж) 5 A) 6 B) 7 E) 8 Г)	16 16
Задание 5.	ПАПА.	0 3
Задание 6.	Барщина - это <sup>на</sup> земля, оброк - это <sup>с</sup> деньги	10 10
Задание 7	В этом сочинении говорится о подготовке <sup>русских</sup> крестовых походов	3 3
Задание 8	A) 7) B) 10) B) 3) Г) 8) A) 1) E) 5) Ж) 9)	2 14
Задание 9	3 лоты, 1 шельм, 1 шиллинг, 1 копья.	0 4
Задание 10	Собственность <sup>иногда</sup> крестьян на землю и участок.	12 12
Итого:	<b>47 баллов</b>	80

иногда в подготовке зависимых крестьян.

2) Лишителя средневековой церкви первоначально привилегированное общество сословие.

**47 баллов**

Всероссийская олимпиада школьников начальной  
этап

по истории

за 2024-2025 уч. год.

ученица 7 класса

МБОУ «Княжеская СОШ №1»

Меркина Анна Валерьевна

Бударева А.А.

**Бланк ответов**  
**ШКОЛЬНЫЙ ЭТАП ВСЕРОССИЙСКОЙ ОЛИМПИАДЫ ШКОЛЬНИКОВ**  
**2024-2025 УЧЕБНОМ ГОДУ**  
**ПО ИСТОРИИ**  
**7 КЛАСС.**

Код \_\_\_\_\_

№ задания	Правильный ответ	Балл								
Задание 1										
1	В	1 1								
2	Б	1 1								
3	А	1 1								
4	В	1 1								
5	Б	1 1								
6	А	1 1								
7	А	1 1								
8	В	1 1								
9	В	1 1								
10	В	1 1								
11	В	1 1								
12	А	1 1								
13	В	1 1								
14	А	1 1								
15	Г	1 1								
16	В	1 1								
17	В	0 1								
18	В	0 1								
19	Б	1 1								
20	А	1 1								
21	Г	1 1								
22	А	1 1								
23	Г, А, В.	0								
24	А	0 1								
25	Б	1 1								
Задание 2	Б, Г, А, Е	8 8								
Задание 3	Любехи, 1097 г.	2 2								
Задание 4	Г	0 2								
Задание 5	Мини	2 2								
Задание 6	ковчег скотоводства	2 2								
Задание 7	1В, 2Б, 3А, 4А, 5Б, 6Е, 7Ж.	10 14								
Задание 8	Г, Б, 9, В, А	8 10								
Задание 9	князь Ярослав Мудрый	2 2								
Задание 10	в подчинение князя Андрея в Москве	2 2								
Задание 11	<table border="1" style="width: 100%;"> <tr> <td>Имя правителя</td> <td>Иван Калита</td> <td>Иван Калита</td> <td></td> </tr> <tr> <td>События</td> <td>1</td> <td>4</td> <td></td> </tr> </table>	Имя правителя	Иван Калита	Иван Калита		События	1	4		9  2
Имя правителя	Иван Калита	Иван Калита								
События	1	4								

Задание 12	1 1234 2 Батюш 3 Раданское 4 Юрий Всеволодович 5 Симо 6 1238 7 Ковырино 8 1240 9 кшв.	9         8												
Задание 13	1. Крещение Руси 2. 988 3. Значение: 1) укрепление государства 2) установление связей с Византией	<del>1</del> 1 <del>1</del> 1 2 2												
Задание 14.	<table border="1"> <tr> <td data-bbox="359 795 670 873">А</td> <td data-bbox="670 795 981 873">Покровы, каперсы</td> <td data-bbox="981 795 1300 873">поскреина в честь победы князя Андрея в битве с половцами</td> </tr> <tr> <td data-bbox="359 873 670 952">Б</td> <td data-bbox="670 873 981 952"></td> <td data-bbox="981 873 1300 952"></td> </tr> <tr> <td data-bbox="359 952 670 1030">В</td> <td data-bbox="670 952 981 1030"></td> <td data-bbox="981 952 1300 1030"></td> </tr> <tr> <td data-bbox="359 1030 670 1086">Г</td> <td data-bbox="670 1030 981 1086"></td> <td data-bbox="981 1030 1300 1086"></td> </tr> </table>	А	Покровы, каперсы	поскреина в честь победы князя Андрея в битве с половцами	Б			В			Г			9    0
А	Покровы, каперсы	поскреина в честь победы князя Андрея в битве с половцами												
Б														
В														
Г														
Итого		100												

74

Всероссийская олимпиада школьников.

школьный этап

по истории

за 2024-2025 учебный год

ученика 9, "б" класса

МБОУ "Ушарская СОШ №1"

Белькевича Тимофей Романовича

14.04.2009г.

Бударева Анастасия Александровна

**ШКОЛЬНЫЙ ЭТАП**  
**ВСЕРОССИЙСКОЙ ОЛИМПИАДЫ ШКОЛЬНИКОВ 2024-2025 УЧЕБНОМ ГОДУ**  
**ПО ИСТОРИИ.**  
**9 КЛАСС.**

*Внимательно прочитай задания. Готовые ответы и решения запиши в бланк ответов. Если испытываешь затруднения, переходи к следующему вопросу. На выполнение всей работы отводится 90 минут.*

**Задание 1. Выбери правильный ответ (по 1 баллу за каждый правильный ответ)**

1. Период с 1725 г. по 1762 г. принято называть

- 1) Смутным временем  
2) периодом Петровских реформ  
3) эпохой дворцовых переворотов  
4) «бунташным» временем

2. Какая отрасль промышленности появилась в России во второй половине XVIII в.?

- 1) оружейная  
2) хлопчатобумажная  
3) шерстяная  
4) железоделательная

3. Кто из названных ниже правителей России заложил основы формирования системы профессионального образования, открыв Артиллерийскую, Навигацкую, Инженерную и Медицинскую школы?

- 1) Пётр I  
2) Елизавета Петровна  
3) Екатерина II  
4) Пётр III

4. Экономическая политика государства периода правления Петра I, направленная на поощрение и поддержку отечественного мануфактурного производства путём ограничения ввоза иностранных товаров и оказания экономической помощи предпринимателям, называется

- 1) монополизмом  
2) секуляризацией  
3) протекционизмом  
4) просвещённым абсолютизмом

5. Как назывался документ в XVIII в., определявший порядок государственной службы в Российской империи; соотношение всех чинов, воинских, статских и придворных по старшинству; последовательность чинопроизводства?

- 1) «Табель о рангах»  
2) «Указ о единонаследии»  
3) «Жалованная грамота дворянству»  
4) Соборное уложение

6. Назовите руководителя крупного народного восстания XVIII в., который жаловал народ «вольностью и свободою, и вечно казаками», отменял рекрутские наборы, подушную и прочую денежные подати, награждал «владением землями лесными, сенокосными угодьями и рыбными ловлями, и соляными озерами без покупки и без оброку», освобождал от «прежде чинимых от злодеев дворян и городских мздоимцев-судей крестьянам и всему народу налагаемых податей и отягощением»?

- 1) И. И. Болотников  
2) К. А. Булавин

- 3) С. Т. Разин  
4) Е. И. Пугачёв

7. Что из названного относится к итогам государственных преобразований первой четверти XVIII в.?

- 1) создание министерств как органа центрального управления  
2) формирование абсолютной монархии  
3) создание приказной системы  
4) учреждение Земских соборов

8. Понятие «рекрутчина» появилось в период

- 1) создания полков иноземного строя при царе Алексее Михайловиче  
2) введения опричнины царём Иваном IV  
3) военных реформ Петра I  
4) нововведений в армии при императоре Павле I

9. Какое из указанных ниже событий военной истории XVIII в. произошло раньше остальных?

- 1) Швейцарский поход А. В. Суворова  
2) взятие крепости Измаил  
3) битва у деревни Лесной  
4) Чесменское сражение

10. Какое мероприятие, проведённое Екатериной II, относится к политике просвещённого абсолютизма?

- 1) школьная реформа: создание трёх типов общеобразовательных учебных заведений  
2) отмена телесных наказаний и пыток для всех граждан империи  
3) закрытие вольных типографий  
4) увеличение чиновничьего аппарата

Задание 2. Максимальный балл – 2. Кто из названных лиц руководил ополчениями 1611-1612 гг. против интервентов? Укажите два верных имени из четырех предложенных:

- А) Василий Шуйский;  
Б) Козьма Минин;  
В) Иван Болотников;  
Г) Дмитрий Пожарский.

Б Козьма Минин Г Дмитрий Пожарский

Задание 3. Максимальный балл – 14. По какому принципу образованы ряды (дайте краткий ответ). Назовите перечисленные события:

- А. 1223 г., 1237 г., 1378 г., 1380 г., 1382 г., 1480 г.  
Б. 1700 г., 1708 г., 1709 г., 1714 г., 1720 г., 1721 г.

~~В это год происходили русские революции.~~

Задание 4. Максимальный балл – 12. Определите, кто из предложенного списка деятелей культуры является архитектором, а кто живописцем. Заполните таблицу, внося буквы в соответствующую колонку:

- А) М.Ф. Казаков;  
Б) В.И. Баженов;  
В) Ф.С. Рокотов;  
Г) Д.Г. Левицкий;  
Д) В. Растрелли;  
Е) В.Л. Боровиковский.



Архитекторы	Живописцы
AOD	BTE

12  
Задание 5. Максимальный балл – 5. Расположите имена древнерусских князей в хронологической последовательности:

- 0
- А) Ольга; 5
  - Б) Владимир Святославич; 2
  - В) Владимир Мономах; 1
  - Г) Ярослав Мудрый; 3
  - Д) Игорь Старый. 4

Задание 6. Максимальный балл – 4. Установите соответствие между терминами и определениями.

ТЕРМИНЫ	ОПРЕДЕЛЕНИЯ
1) гусли	А) женский головной убор
2) пенька	Б) мягкая, специальной выделки козья или овечья кожа яркого цвета
3) кокошник	В) волокно, сделанное из стеблей конопли
4) амулет	Г) старинный струнный музыкальный инструмент
	Д) предмет, оберегающий владельца от бедствий

4

1	2	3	4
Г	В	А	Д

Задание 7. Максимальный балл – 16. Впишите правильную букву (правильные буквы) вместо пропусков и объясните, что обозначает термин:

- 0 А) Ассамблея – собрание
- 2 Б) Агрессия – злость, нападение
- 0 В) Борошко – зерно
- 1 Г) Кондиции – не выдают в залу
- 1 Д) Протекционизм – защита отечественных производителей
- 2 Е) Парсуна – персональный портрет
- 1 Ж) Фаворит – любимый человек
- 2 З) Мануфактура – производство изделий, позднее производство

8. Максимальный балл – 10. Определите пропущенные в тексте названия, имена, даты, обозначенные порядковыми номерами. При необходимости при порядковых номерах даются пояснения о характере требуемой вставки. Необходимые вставки впишите под соответствующими номерами в таблицу.

В эпоху Петра I появились новые учебники, самый знаменитый из них – «Арифметика» (1 – фамилия автора), по которой учились почти весь XVIII в. Вместо церковно-славянского был введён гражданский шрифт, похожий на современный, и (2 – название) цифры. В 1702 г. начала издаваться первая печатная газета (3 – название), сообщавшая о событиях за рубежом, о строительстве новых предприятий. В 1700 г. царь приказал считать началом года не 1 (4 – месяц), а 1 января и одновременно ввёл летосчисление от Рождества Христова, а не от (5 – событие библейской истории).

При Петре I началось создание первого в России музея – (6 – название), положившей начало формированию исторических и естественно-научных коллекций. Большое

значение для развития науки в России имело создание Петербургской академии наук открытой в (7 – год).

Уникальным по своему архитектурному облику является Санкт-Петербург, ставший \_\_\_\_\_ столицей государства в (8) году. Город был не только любимым детищем царя, но и символом его царствования, выражением эпохи преобразований. Пётр I пригласил знаменитого итальянского архитектора (9 – фамилия), который построил в новой столице Летний дворец царя, здание Двенадцати коллегий и (10 – название) собор.

1

1	
2	Римские
3	Русская правда
4	семья
5	
6	Эрмитаж
7	1724г.
8	1703г.
9	
10	

По 1 баллу за каждую верную вставку.

**Задание 9. Максимальный балл – 10.** «Да» или «нет»? Если вы согласны утверждением, напишите «да», если не согласны – «нет».

1. В древней Руси был принят «лествичный» или «очередной» порядок передачи престола в княжеской династии.
2. Основным общегосударственным мероприятием на Руси в IX-XII вв. был сбор дани, проходивший, как правило, ежегодно с апреля по ноябрь.
3. В результате победы Александра Ярославича на Чудском озере Ливонский орден не смог осуществить планы завоевания Северной Руси обращения ее в католичество.
4. Великое княжество Литовское могло возглавить объединение русских земель в годы правления великого князя Гедимина.
5. Объединение русских земель и освобождение от ордынского ига произошло под руководством тверских князей.
6. Первые указы возникли при Иване III.
7. В летописях Грозным называют и Ивана III, и Ивана IV.
8. Избрание царя на российский престол состоялось только однажды.
9. Д.И. Фонвизин, А.Н. Радищев, Г.Р. Державин, Н.И. Новиков были современниками Екатерины II.
10. Павел I с малых лет воспитывался как будущий император: он давал аудиенции иностранным послам, обедал за одним столом с самыми знатными сановниками государства, чтобы научиться царствовать.

0	0	1	0	0	0	0	1	1	1
1	2	3	4	5	6	7	8	9	10
нет	да	да	нет	да	да	нет	нет	да	нет

**Задание 10. Максимальный балл – 15.** Проанализируйте предложенный отрывок и ответьте на вопросы.

«... Хотя ночь была темная и мороз великий, но улицы были наполнены людьми, идущими к цесаревнинскому дворцу, а гвардии полки с ружьем шеренгами стояли уже вокруг одного в ближних улицах ... шум разговоров и громкое восклицание многих голосов: «Здравствуй, наша матушка», воздух наполняли... Встретил нас ласковым приветствием тогда бывший при дворе ее величества между прочим камергером Петр Иванович Шувалов. Он в знак всеобщей радости рассказал, что ... бывшие министры генерал-фельдмаршал граф Миних, тайные действительные советники и кабинет - министры графы Остерман и Головкин

уже все из домов своих взяты и под арестом сидят...».

«Сани остановились перед съезжей избой полка, где непредупрежденный ни о чем караульный забил тревогу... Лесток кулаком прорвал его барабан, тогда как тринадцать гренадер, посвященных в тайну, разбежались по казармам, чтобы предупредить своих товарищей. Здесь были одни лишь солдаты ... офицеры все жили в городе ... в несколько минут собралось несколько сот человек. Цесаревна вышла из саней.

- Узнаете ли вы меня? Знаете ли вы, чья я дочь?
- Знаем, матушка!
- Меня хотят заточить в монастырь. Готовы ли вы пойти за мной, защитить меня?
- Готовы, матушка, всех их перебьем!»

1. Назовите имя цесаревны. Чья она дочь? \_\_\_\_\_

2. Как называется период, в который происходят описываемые события? дворцовые перевороты

3. Какими чертами будет отличаться царствование этой императрицы? Укажите не менее трех положений

**Задание 11.** Заполните пустые ячейки таблицы, используя приведенный ниже список пропущенных элементов: для каждого пропуска, обозначенного буквами, выберите номер нужного элемента. Максимальный балл - 3

Правитель	Созданный орган власти	Годы правления
А <u>2</u>	Конференция при высочайшем дворе	1741-1761 гг.
Екатерина I	Верховный тайный совет	Б <u>1)</u>
Анна Иоановна	В <u>4</u>	1730-1740 гг.

Пропущенные элементы:

- 1) 1725-1727 гг.
- 2) Пётр II
- 3) Елизавета Петровна
- 4) Кабинет министров
- 5) Сенат
- 6) 1761-1761 гг.

**Задание 12.** Ознакомьтесь с общим списком и его разбивкой на три логические группы. Озаглавьте название каждой из групп, распределите элементы списка по этим трем группам. (1 балл дается за название группы, 2 балла за полное заполнение каждой группы. Итого за задание дается до 9 баллов).

1) фунт, 2) сажень, 3) бочка, 4) верста, 5) ведро, 6) кружка, 7) пуд, 8) десятина

<u>Длины</u> 3	<u>Емкости</u> 3	<u>Вес</u> 3
<u>2, 4, 8.</u>	<u>3, 5, 6.</u>	<u>1, 7.</u>

**Задание 13.** Из приведенных слов составьте определения исторических понятий и запишите их. Напишите сами понятия. Слова не могут быть использованы дважды. В этот лингвистический конструктор вы можете добавлять предлоги, изменять слова по числам и падежам (1 балл за понятие, 1 – за определение. Максимальный балл – 6):

А) Руси, дань, в, размер, Древней,

установленный. в Древней Руси размер дани установленный

Б) Князьям, ханская, право, грамота, княжествах, в, дававшая, своих, властвовать, русским.

Русским князьям в княжествах ханская грамота дававшая властвовать русским

В) Разделение труда, предприятие, ручная техника, основанный. *Разделение труда, ручная техника основанное предприятие*

**Задание 14. Работа с картой. 4 балла.**

1. Напишите название войны, обозначенные на схеме стрелками.
2. Напишите название города, обозначенного на схеме цифрой «1», о котором русский царь сказал: «...И тако шведы над нашим войском викторию получили, что есть бесспорно; но надлежит разуметь, над каким войском оную учинили, ибо только один старый полк Лефортовский был... два полка гвардии были на двух атаках у Азова, а полевых боев, а на ипаче с регулярными войсками, никогда не видали...».
3. Царь признал результаты этой битвы впечатляющими и распорядился организовать награждение участников битвы специальной медалью, надпись на которой гласит: «Достойному – достойное». Напишите цифру, которой обозначено место этой битвы. **2**



Всероссийская олимпиада школьников

Школьный этап

по истории

ученика 10 класса

МБОУ "Школа СОШ №1"

Зотов Денис Андреевич

03.12.2007

Полтавская Елена Владимировна

**ШКОЛЬНЫЙ ЭТАП**  
**ВСЕРОССИЙСКОЙ ОЛИМПИАДЫ ШКОЛЬНИКОВ 2024-2025 УЧЕБНОМ ГОДУ**  
**ИСТОРИЯ**  
**10 класс**

Максимальная оценка – 105 баллов  
 Время 90 мин.

**Задание № 1.** Перед вами отрывок из сообщения Иоанна Скилицы. Ответьте на вопросы (максимальный балл-4).

«И жена некогда отправившегося в плавание против ромеев русского архонта, по имени Эльга, когда умер ее муж, прибыла в Константинополь. Крещенная и открыто сделавшая выбор в пользу истинной веры, она удостоившись великой чести по этому выбору, вернулась домой»

- 1.1. Какое имя указанная княгиня получила после крещения? (1 балл). *Елена*
- 1.2. При помощи какого оружия византийцы победили мужа княгини, в каком году?. (1 балла) *тресканий олоки*
- 1.3. Какие фискальные преобразования провела княгиня на Руси? (2 балла). *установила уроки и урядный полюдие*

**Задание № 2.** Соотнесите элементы правого и левого столбцов таблицы. (В перечне справа есть лишняя характеристика, максимальный балл – 12).

- |  |   |
|--|---|
| А. Образование независимых Колумбии, Венесуэлы и Эквадора                      | 1. Роспуск Уложенной комиссии                               |
| Б. Бостонское чаепитие   | 2. Отмена опричнины   |
| В. Начало плавания Д. Кука, в ходе которого открыты Австралия и Новая Зеландия | 3. Открытие пролива между Азией и Америкой                  |
| Г. Начало войны североамериканских колоний Англии за свою независимость        | 4. Восстание Польши 1830 г.                                 |
| Д. Варфоломеевская ночь во Франции   | 5. Губернская реформа                                       |
| Е. Создание Лиги Наций   | 6. Начало Крестьянской войны под руководством Е.И. Пугачева |
|  | 7. Наступление армии Деникина на Москву                     |

А	Б	В	Г	Д	Е
4	6	3	5	2	7

**Задание № 3.** «Да» или «нет»? Если вы согласны с утверждением, напишите «Да», если не согласны – «Нет». (максимальный балл – 10)

№	Утверждения		
1.	Первая Конституция России была принята в 1918 г.	Да	+
2.	Покровский собор на Красной площади воздвигнут в честь освобождения Москвы от польской интервенции	Нет	+
3.	Конституция была дарована Финляндии Александром I	Да	+
4.	Пересвет и Ослябя – иноки Соловецкого монастыря	Нет	+
5.	Самой длительной войной в истории России стала Северная война	Нет	+
6.	Первые приказы возникли при Иване III	Нет	+
7.	Первой по времени реформой Александра II стала военная реформа	Нет	+
8.	Казанские походы начались с 1547 г.	Да	+
9.	Павел I вошел в историю России как царь-освободитель	Нет	+
10.	Во внешней политике Александр I лавировал между Великобританией и Францией.	Да	+

1	2	3	4	5	6	7	8	9	10
Да	Нет	Да	Нет	Нет	Нет	Нет	Да, Нет	Нет	Да

**Задание № 4.** Соотнесите имя государственного деятеля и преобразование, им осуществленное: (максимальный балл – 12)

1) Е.Ф. Канкрин	А) создание корпуса жандармов, составившего костяк системы государственной безопасности
-----------------	---

2) М.М. Сперанский	Б) проведение реформы государственных крестьян
3) П.Д. Киселев	В) создание специального комитета по надзору за печатью с неограниченными полномочиями
4) С.С. Уваров	Г) проведение кодификации российского законодательства
5) Д.П. Бутурлин	Д) реформа по замене обесцененных ассигнаций кредитными билетами, подкрепленными серебром
6) А.Х. Бенкендорф	Е) организация просвещения «на истинно русских началах»

1	2	3	4	5	6	
В +	Г +	Б +	Е +	В +	А +	225

**Задание 5.** По какому принципу построен ряд? Кто или что является лишним в ряду? Вычеркните лишнее и дайте объяснение, почему? До 2 баллов за каждый ряд, в зависимости от точности и полноты ответа; максимальный балл- 8 баллов.

1 Владимир Старицкий, Алексей Адашев, Андрей Курбский, протопоп Сильвестр.

Принцип: Выбранная рада

Исключение: Владимир Старицкий

2 Белградский мир, Ясский мир, Бухарестский мир, Адрианопольский мир, Бахчисарайский мир, Туркманчайский мир.

Принцип: Мирные договоры, завершившие русско-турецкие войны

Исключение: Туркманчайский мир

3 П.Л. Лавров, А.И. Желябов, С.Л. Перовская, Н.И. Кибальчич, И.И. Гриневицкий, В.И. Засулич.

Принцип: Имена террористической организации «Народная воля»

Исключение: В. Засулич

4 Ф.М. Ртищев, Никон, Аввакум, Стефан Вонифатьев, Алексей Михайлович.

Принцип: Участники раскола Русской Православной церкви

Исключение: Ф.М. Ртищев

**Задание 6.** Выберите по три верных ответа в каждом блоке, свой ответ запишите в таблицу. По 2 балла за каждый правильный ответ; максимальный балл- 6 баллов

1. Укажите имена исторических деятелей, которые были современниками Александра I.

- ① Пётр Петрович Коновницын; 2) Гавриил Иванович Головкин; ③ Пётр Алексеевич Пален; ④ Александр Иванович Кутайсов; 5) Петр Александрович Румянцев; 6) Фёдор Юрьевич Ромодановский.

2. Какие из приведённых городов были центрами первых губерний, основанных в 1708 году?

- ① Тобольск; 2) Белгород; 3) Ярославль; ④ Астрахань; ⑤ Казань; 6) Архангельск.

3. Какие из представленных ниже дворцов были построены в правление Екатерины II?

- 1) Екатерининский дворец в Царском селе; ② Мраморный дворец; 3) Большой Кремлевский дворец; ④ Чесменский дворец; ⑤ Таврический дворец; 6) Михайловский замок.

1.	2.	3.
1,34 +	145 —	245 + 95

**Задание 7.** Перед Вами текст одного очень известного документа. Внимательно ознакомьтесь с ним и ответьте на вопросы после текста. **Максимальный балл-10 баллов.**

Объявляем всем верным Нашим подданным.

Богу, в неисповедимых судьбах Его, благоугодно было завершить славное Царствование Возлюбленного Р О Д И Т Е Л Я Н А Ш Е Г О мученической кончиной, а на Нас возложить Священный долг Самодержавного Правления.

Повинуясь воле Провидения и Закону наследия Государственного, МЫ приняли бремя сие в страшный час всенародной скорби и ужаса, пред Лицом Всевышнего Бога, веруя, что предопределив НАМ дело Власти в столь тяжкое и многотрудное время, Он не оставит НАС Своею Всесильною помощью. Веруем также, что горячие молитвы благочестивого народа, во всем свете известного любовью и преданностью своим Г О С У Д А Р Я М , привлекут благословение Божие на НАС и на предлежащий НАМ труд Правления.

<...> Низкое и злодейское убийство Русского Г О С У Д А Р Я , посреди верного народа, гото-ваго положить за НЕГО жизнь свою, недостойными извергами из народа, — есть дело страшное, позорное, неслыханное в России, и омрачило всю землю нашу скорбью и ужасом.

Но посреди великой НАШЕЙ скорби Глас Божий повелевает НАМ стать бодро на дело Правления, в уповании на Божественный Промысл, с верою в силу и истину Самодержавной власти, которую МЫ призваны утверждать и охранять для блага народного от всяких на нее поползновений.

Да ободрятся же пораженные смущением и ужасом сердца верных НАШИХ подданных, всех любящих отечество и преданных из рода в род Наследственной Царской власти.

Подсенью Ее и в неразрывном с Нею союзе земля наша переживала не раз великие смуты и приходила в силу и в славу посреди тяжких испытаний и бедствий, с верою в Бога, устроющего судьбы ее. <...>

*Манифест о неудовольствии самодержавия Александровича* 29 апреля 1881 35

1. Назовите этот документ, автора его проекта и точную дату подписания. (3 балла)
2. Можно ли провести приблизительную датировку исходя только из текста документа? Дайте развернутый ответ со ссылкой на упоминаемые события. (3 балла)
3. Что этот документ дает для понимания характера императорской власти в Российского времени? (Укажите хотя бы 2 характеристики императорской власти, подтвердив их цитатами из текста) (4 балла)

**Задание 8.** Заполните пробелы в тексте. Ответ оформите в виде перечня элементов под соответствующими номерами (максимальный балл – 3)

В самом начале 1613... (1) года в Москву стали съезжаться выборные со всех концов Русской земли. Это был первый бесспорно всесословный земский собор с участием посадских и даже сельских обывателей.

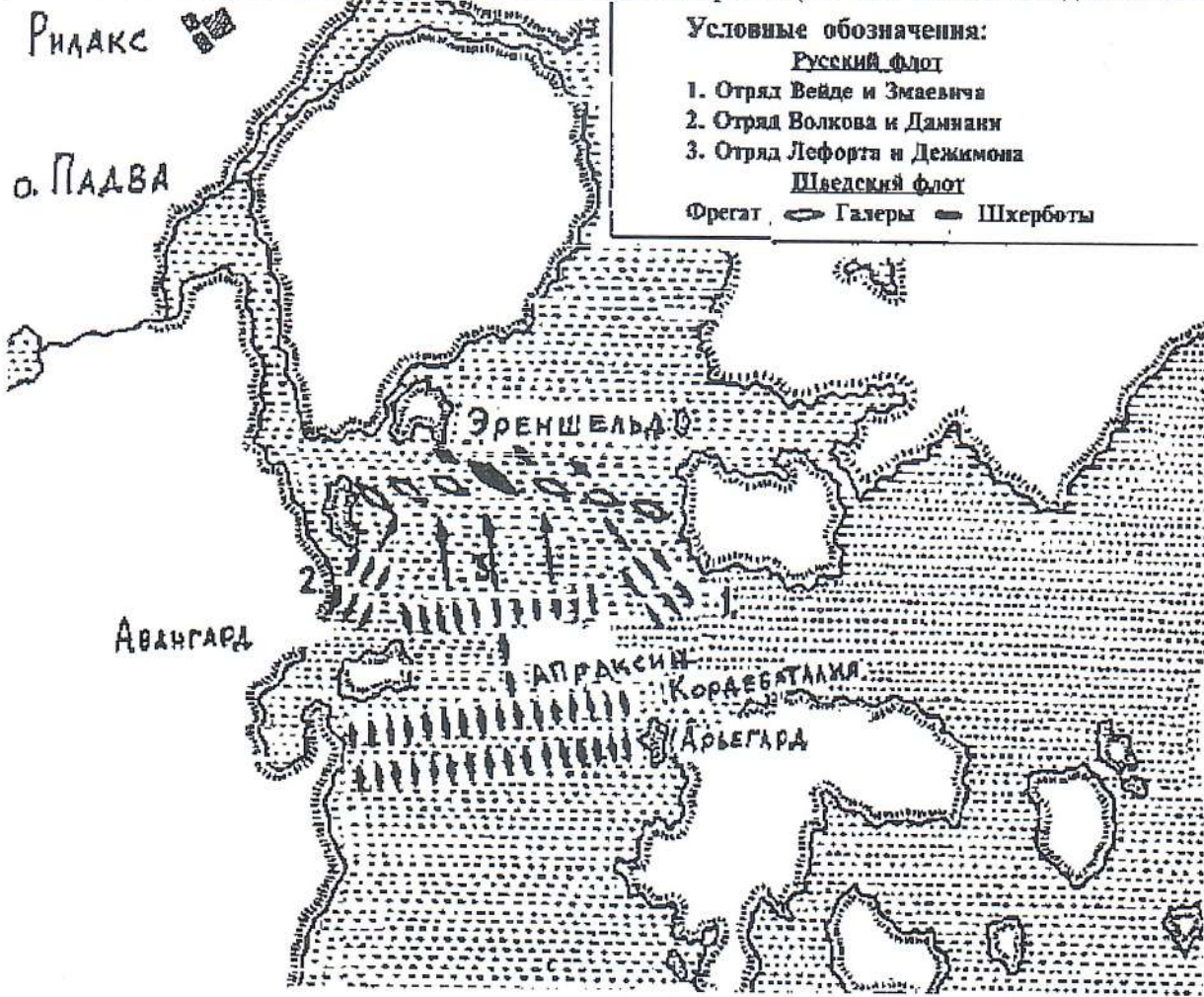
Наиболее вероятными кандидатами на избрание были: князя Галицкий, Мстиславский, Воротынский, Трубецкой и ... (2) *Михаил Романов Д. Романов*

Неоднозначной при обсуждении была и кандидатура Михаила, отец которого *Роман* (3).... был ставленником обоих самозванцев, получил сан митрополита от первого и провозглашен патриархом в подмосковном лагере второго.

25



Задание 9. Рассмотрите карту и ответьте на вопросы ( за выполнение задания 14 баллов):



- А) Определите, карта какого сражения здесь представлена? *Голмушское сражение 25.*
- Б) Когда оно произошло? *1714 15.*
- В) В ходе какой войны оно произошло? *Северная война 25.*
- Г) Кто командовал русской эскадрой? *Апраксин 25.*
- Д) Какие еще морские сражения этой войны вы можете назвать? *Гренландское сражение 15.*
- Е) В годы правления какого царя произошло это сражение? *Петр I 25.*

10. В Древней Руси существовала довольно сложная денежная система. Расположите денежные единицы в порядке возрастания – от самой мелкой к самой крупной.


Найти правильный ответ вам помогут следующие данные (они дают представление о соотношении денежных единиц, но не об их точном значении). (максимальный балл – 3)

1. Одна лисица стоила пять ногат, а три лисицы – сорок кун без ногаты.
2. В одной ногате было тридцать векошь, а в одной гривне – шестьсот. *05.*
3. В гривне было пятьдесят резан.

11. Перед вами – здания, создание которых связано с различными историческими деятелями, а также эти памятники принадлежат к определенному типу, архитектурному стилю. Назовите деятелей, приказавших построить эти здания (1 балл) и впишите номера зданий в таблицу соответственно указанным характеристикам.

По 1 баллу за каждую правильное соотношение, всего 13 баллов, максимальный балл – 23 балла.

1



Елизаветина Тополиа + ~~18~~

3

2



4



~~Крест на крови в царств. Петербурге~~  
Александр III + ~~18~~



5




6



*Co.*


8



7



9



1

0



*№*

**Правители, которые приказали  
построить здания**

- 1 Елизавета Петровна +
- 2 Андрей Боголюбский -
- 3 Александр III +
- 4 Николай II -
- 5 Иван III +
- 6 Иван IV +
- 7 Александр I -
- 8 Василий III +
- 9 ~~Александр Николаевич~~ Николай I -
- 10 Андрей Боголюбский +

65

**ОДНО ЗДАНИЕ МОЖЕТ СООТВЕТСТВОВАТЬ НЕСКОЛЬКИМ**

<b>ХАРАКТЕРИСТИКАМ!</b>	<b>Номера зданий соответствующих характеристикам</b>	
I. Крестово-купольный тип храма	5 10 2	35
II. Столповой и шатровый типы храма	8 10 9	1
III. Стиль «дивное узорочье»	4 6 3	1
IV. Стиль барокко	14	2
V. Русско-византийский стиль	1 7 8	1

**Задание 4**

2) Исходя из текста документа между прикличия можно датировку т.к. дата предполагает указание дня, месяца и год, а опираясь на текст документа между указать первые два месяца, а только год («Возлюбленные родители Алексея муромской княжной» - предполагается 1881 год - год убийства Александра II)

25

3) Императорская власть опирается на Божий промысел  
 «... Гос Божий повелевает»; «... уловением на Божественный Промысел»

2) Самодержавная власть призвана улучшать благосостояние народа  
 «Мы призваны утверждать и охранять для блага народное»

45

3) Народ любит своего Государя

«... оплакиваю всю землю нашу скорбью и утесами»  
 «... час всенародной скорби»

Всероссийская олимпиада школьников  
Школьный этап

по истории

ученицы II А класса

МБОУ «Илевская СОШ №1»

Илевской Софии Дмитриевны

13.07.2007

Ходос Наталья Егоровна

**ВСЕРОССИЙСКАЯ ОЛИМПИАДА ШКОЛЬНИКОВ ПО ИСТОРИИ**  
**школьный этап**  
**2024-2025 учебный год**  
**11 класс**

**Время выполнения работы – 120 минут**

**Максимальный балл – 100**

**Задание 1. Выберите несколько правильных ответов.**

1.1. В период, прошедший от распада Киевской Руси до монгольского нашествия, возникли памятники культуры

- А) Успенский собор во Владимире-на-Клязьме
- Б) Софийский собор в Новгороде Великом
- В) «Слово о полку Игореве»
- Г) Троице-Сергиев монастырь
- Д) Церковь Покрова-на-Нерли

2.2. Укажите характерные черты социально-экономического развития России в XVIII веке.

- А) Начало формирования всероссийского рынка.
- Б) Учреждение Вольного экономического общества.
- В) Издание Новоторгового устава.
- Г) Законодательное оформление крепостного права.
- Д) Введение подушной подати.
- Ж) Появление специализации районов

2.3. Какие понятия характеризуют эпоху Смуты?

- А) «Семибоярщина»
- Б) «Верховники»
- Д) Крестоцеловальная запись
- Б) Кондиции
- Г) «Совет всея Руси»
- Ж) опричник

2.4. Какие из этих событий произошли во время царствования Михаила Федоровича?

- А) Взятие казаками Азова
- Б) Взятие русскими войсками Смоленска
- В) Основание Самары
- Г) Основание Якутска
- Д) Переяславская рада
- Ж) Столбовский мир

2.5. Какие из этих сражений произошли на территории современной России?

- А) Битва при Лесной
- Б) Бородинское сражение
- В) Битва на Альме
- Г) Грюнвальдская битва
- Д) Мукденское сражение

**Задание 2. Перед Вами – фрагмент из биографий известных государственных деятелей. Определите, о ком идет речь. (по 3 балла за правильный ответ, всего до 6 баллов)**

2. 1. Князь Новгородский (1236—1240, 1241—1252 и 1257—1259), великий князь Киевский (1249—1263), великий князь Владимирский (1252—1263). Канонизирован в 1547 г.

Ответ: Александр Невский

2.2. Вице-президент (1774-1784) и президент (1784-1791) Военной коллегии, сенатор (с 1776), генерал-адъютант Е.и.в. (с 1774), главнокомандующий российскими армиями на юге (с 1789), Екатеринославский (с 1783), Таврический (с 1784) и Харьковский (с 1787) генерал-губернатор.

Ответ: Александр Суворов

**Задание 3.** Заполните пустые ячейки таблицы, используя представленные в приведённом ниже списке данные: для каждой ячейки, обозначенной буквой, выберите номер нужного элемента.

Век	Событие истории России	Событие истории зарубежных стран
<u>7</u> (А)	Начало правления в Киеве Святослава Игоревича	Образование Священной Римской империи
<u>3</u> (Б)	Покорение Сибирского ханства Ермаком	<u>2</u> (В)
XIV в.	<u>4</u> (Г)	Начало Столетней войны
XV в.	<u>5</u> (Д)	<u>6</u> (Е)

Пропущенные элементы:

- 1) XII в.
  - 2) Варфоломеевская ночь во Франции
  - 3) XVI в.
  - 4) сражение на реке Воже
  - 5) «стояние» на реке Угре, освобождение Руси от ордынского владычества
  - 6) изобретение книгопечатания И. Гутенбергом
  - 7) X в.
  - 8) падение Западной Римской империи
  - 9) присоединение к России Левобережной Украины
- (По 1 баллу за каждый правильный ответ, максимум – 6 б.)

**Задание 4.** Соотнесите произведения древнерусской литературы и правителей, в правление которых они появились. (По 1 баллу за каждый правильный ответ, максимум – 5 б.)

- 1) «Слово о законе и благодати»
  - 2) «Задонщина»
  - 3) «Степенная книга царского родословия»
  - 4) «Просветитель» Иосифа Волоцкого
  - 5) «Повесть временных лет»
- А) Святополк Изяславич  
 Б) Иван III  
 В) Ярослав Мудрый  
 Г) Дмитрий Донской  
 Д) Иван Грозный

A-5; Б-4; В-1; Г-2; Д-3

58

**Задание 5. Из частной переписки**

...Всемиловейший Государь-батюшка!

Письмо твое, государь, милостивейшее через господ Толстого и Румянцева получил, из которого — также из устного мне от них милостивое от тебя, государя, мне, всякой милости недостойному, в сем моем своевольном отъезде, буде я возвращуся, прощение принял; о чем со слезами благодаря и припадая к ногам милосердия вашего, слезно прошу о оставлении преступлений моих мне, всяких казней достойному. И надеяся на милостивое обещание ваше, полагаю себя в волю вашу и с присланными от тебя, государя, поеду из Неаполя на сих днях к тебе, государю, в Санкт-Питербурх.

Всенижайший и непотребный раб и недостойный назваться сыном <имя>.

5. 1. Кто является автором письма? Кому адресовано данное письмо? Укажите с точностью до десятилетия дату, когда было написано данное письмо.

сын Петра I, Петру I. 1710 г. написания  
 Всецел

38

5. 2. Из текста письма определите место, куда планирует прибыть автор письма. На что полагается автор письма, обращаясь к адресату? Назовите не менее двух позиций. *Санкт-Петербург. Мило бы мне увидеть*  
 5.3. Пользуясь своими знаниями по истории, укажите страну, куда самовольно выехал автор *Австрия. Искал*  
 письма. Какая участь постигла отправителя письма по возвращению в Россию? Какой указ, *поддержки, чтобы договорился со*  
 изменивший порядок наследования престола, был принят вскоре после событий, связанных со *своим отцом. Указ о престолонаследии*  
 взаимоотношениями автора и получателя письма? Укажите год его принятия. *1722 год*  
 (По 3 баллу за каждый правильный ответ, максимум - 126.)

**Задание 6. Распределите указанные события из военной истории по векам.** (По 1 баллу за *Алексея Кизимки*  
 каждый правильный ответ, максимум - 156.)

1. Сражение на реке Сити.
2. Синопский бой
3. Битва при Молодях.
4. Освобождение Москвы II ополчением.
5. Присоединение Казанского ханства.
6. Куликовская битва.
7. «Ледовое побоище».
8. Сражение при Лесной.
9. Взятие Москвы Тохтамышем.
10. «Стояние на Угре».
11. Взятие крепости Корфу.
12. Взятие Измаила.
13. Оборона Пскова от войск Стефана Батория.
14. Битва на реке Калке.
15. Бородинское сражение

XIII в.	XIV в.	XV в.	XVI в.	XVII в.	XVIII в.	XIX в.
1, 7, 14 + +	6, 9 + +	4, 10 +	3, 5 +	4, 13 + +	8, 11, 12 + + +	2, 15 + +

**Задание 7. Внимательно рассмотрите карту и выполните задания.**



7.1 Укажите название немецкой и советской военных операций, которые изображены на карте? (По 16. за каждый правильный ответ)

Немецкие операции: Цитадель *15*  
 Советские операции: Оборонительная *16*



7.2 Назовите хронологические рамки оборонительной и наступательной операций, проведенных Красной Армией в ходе Курской битвы. (2б) *Курская оборонительная операция Орловская наступательная. 1б.*

7.3 Кто командовал Центральным фронтом? (2б.)

7.4. Какие суждения, относящиеся к событиям, обозначенным на карте, являются верными?

- 1) сражение, этап которого обозначен на карте, длилось шесть месяцев;
  - 2) события, обозначенные на схеме, относятся к коренному перелому в ходе войны;
  - 3) обозначенные на карте события происходили зимой;
  - 4) операция, ход которой обозначен на карте, относится к «десяти сталинским ударам»;
  - 5) итогом событий, обозначенных на схеме, стало освобождение ряда оккупированных районов СССР;
  - 6) в период битвы, обозначенной на карте, в Москве был дан первый за всю войну салют.
- Выберите три суждения из шести предложенных. (По 1б. за каждый правильный ответ, максимум- 10б.)

38


**Задание 8. Внимательно рассмотрите изображение и выполните задания. (Максимум- 10б.)**



9. Перед вами – здания, создание которых связано с различными историческими деятелями, а также эти памятники принадлежат к определенному типу, архитектурному стилю. Назовите деятелей, приказавших построить эти здания (1 балл) и впишите номера зданий в таблицу соответственно указанным характеристикам.

По 1 баллу за каждую правильное соотношение, всего 13 баллов, *максимальный балл – 23 балла*

1




2



3



4



5




6




7



8



9



10



№

Правители, которые приказали  
построить здания

1 Екатерины II

2

3 ~~ИВАН ГРОЗНЫЙ~~ АА

4

5

6 ИВАН ГРОЗНЫЙ †

7

8 ВАСИЛИЙ † 20

9

10

**ОДНО ЗДАНИЕ МОЖЕТ СООТВЕТСТВОВАТЬ НЕСКОЛЬКИМ**

<b>ХАРАКТЕРИСТИКАМ!</b>	<b>Номера зданий <u>соответствующих</u> характеристикам</b>
I. Крестово-купольный тип храма	2, 5, 10
II. Столповой и шатровый типы храма	3
III. Стиль «дивное узорчье»	9, 6, 8
IV. Стиль барокко	1
V. Русско-византийский стиль	4, 7